

Schreibe die Übersetzungen der Dynamikangaben in die passenden Steine!

pianissimo

forte

mezzopiano

fortissimo

decrescendo

piano

mezzoforte

crescendo

Dynamik

The image shows a vertical list of ten dynamic markings on the left, each connected by a thin line to a corresponding hand-drawn stone on the right. The stones vary in shape, size, and the density of their hatching, representing different dynamic levels. From top to bottom, the connections are: pianissimo to the smallest, most rounded stone; forte to a small, irregular stone; mezzopiano to a medium-sized, somewhat rectangular stone; fortissimo to a larger, more rectangular stone; decrescendo to a stone that tapers to the right; piano to a large, irregular stone; mezzoforte to a large, somewhat rectangular stone; crescendo to a large, somewhat rectangular stone with dense hatching; and Dynamik to the largest, most rectangular stone with the densest hatching.

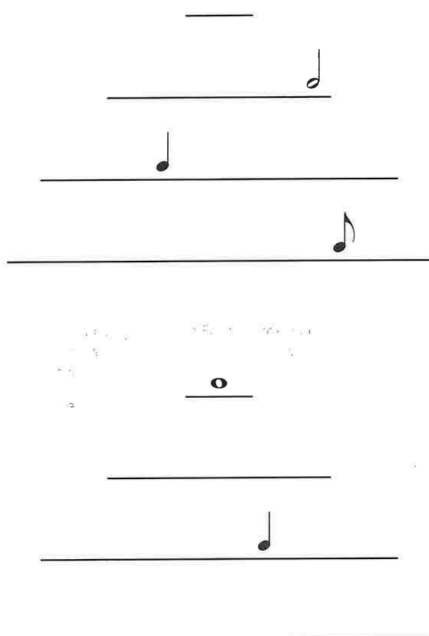
Kreise jeweils den kürzesten Notenwert ein!




Kreise jeweils den längsten Notenwert ein!




Ergänze die fehlenden Notenwerte in den Notenwertpyramiden!





Mit welchem Notenwert bleibt die Waage im Gleichgewicht? Zeichne nur einen Notenwert in die rechte Schale!




Welche Antwort ist richtig?

Eine  hat: 3 Schläge (6)
einen halben Schlag (1)

Eine  hat: 2 Schläge (7)
3 Schläge (5)

Eine  hat: 1 Schlag (7)
3 Schläge (4)

Eine  hat: 3 Schläge (6)
4 Schläge (1)